

Nombre: \_\_\_\_\_

Fecha: \_\_\_\_\_




# GENIUSCHALLENGE

## MÁQUINAS SIMPLES

### Cuadro de palabras

tornillo	plano inclinado	polea	palanca	rueda y eje	cuña
----------	-----------------	-------	---------	-------------	------

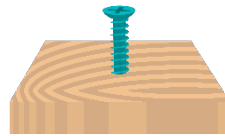
1-6. Identifica cada imagen con la palabra correcta del cuadro de palabras.



\_\_\_\_\_

\_\_\_\_\_

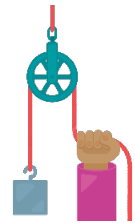
\_\_\_\_\_



\_\_\_\_\_

\_\_\_\_\_

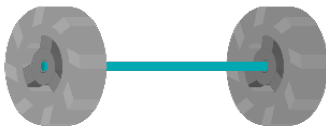
\_\_\_\_\_



\_\_\_\_\_

\_\_\_\_\_


\_\_\_\_\_



\_\_\_\_\_

\_\_\_\_\_

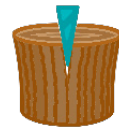
\_\_\_\_\_



\_\_\_\_\_

\_\_\_\_\_

\_\_\_\_\_



\_\_\_\_\_

\_\_\_\_\_

\_\_\_\_\_

7. Una polea puede cambiar \_\_\_\_\_ de una fuerza.

- a. el color      b. el tipo      c. el número      d. la dirección

8. Las máquinas simples pueden cambiar \_\_\_\_\_ de fuerza necesaria para hacer algo.

- a. el tipo      b. la cantidad      c. el estilo      d. la altura

9. Una máquina simple está hecha de pocas o \_\_\_\_\_ pieza móvil.

- a. 100      b. 10      c. 3      d. ninguna

10. Cierto o Falso: Sólo una persona muy fuerte puede mover cosas pesadas.

\_\_\_\_\_

\_\_\_\_\_

\_\_\_\_\_