



GENIUSCHALLENGE

PARTES EXTERNAS DE LAS PLANTAS

Cuadro de palabras

raíces

flor

hojas


tallo

fruto


semillas

1-6. Escribe el nombre de cada parte de las plantas usando las palabras del cuadro de palabras.














Encierra en un círculo la respuesta correcta de cada pregunta a continuación.

7. ¿Cuál es la parte de la planta que la mantiene en la tierra?

a. la semilla

b. la fruta

c. las hojas

d. las raíces

8. ¿Cuál de los siguientes es un fruto que puedes comer?

a. tomate

b. caña de azúcar

c. rábano

d. zanahoria

9. ¿Cuál de los siguientes es un tallo que puedes comer?

a. albaricoque

b. apio (celery)

c. espinaca

d. papa

10. ¿Cuál de las siguientes es una raíz que puedes comer?

a. rosa

b. menta

c. papa

d. espinaca